




- GROEP 3
- GROEP 4
- GROEP 5
- GROEP 6
- GROEP 7**
- GROEP 8



# Kranten en tijdschriften



Samen

# Wie wil mijn fiets kopen?

## Wat ga je leren?

Je leert de aanwezigheid van advertenties te verklaren en het percentage advertenties te berekenen.

## Hoelang ben je bezig?

Ongeveer 1 - 2 uur

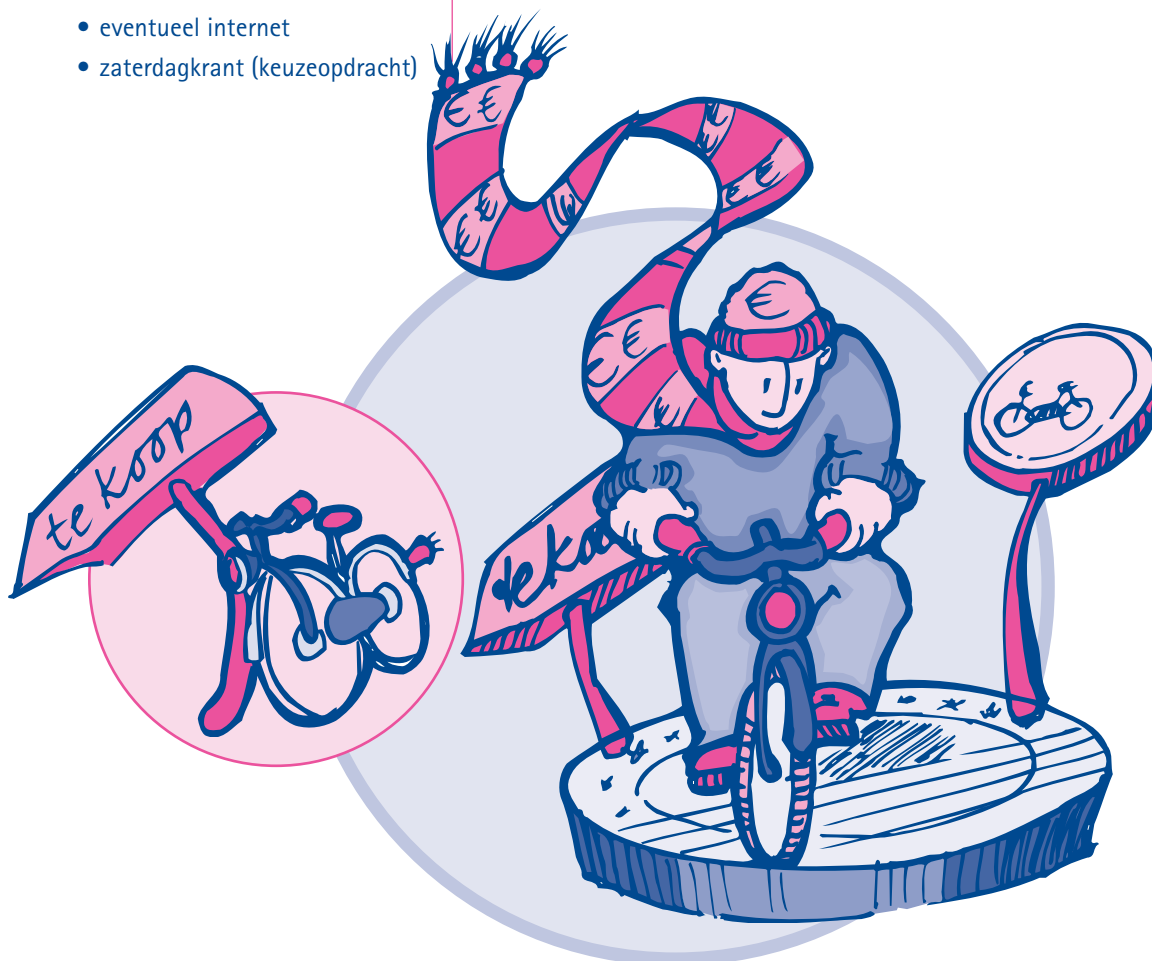
## Wat heb je nodig?

- een aantal verschillende soorten tijdschriften
- stapel kranten
- lijntjespapier
- eventueel tekenblaadje
- pen/potlood
- rekenmachine
- eventueel internet
- zaterdagkrant (keuzeopdracht)

## INLEIDING

In kranten en tijdschriften staan veel advertenties. In een advertentie worden producten en diensten aangeboden in de hoop dat lezers geïnteresseerd raken. Soms is een advertentie een klein berichtje, maar je hebt ook grote advertenties met een foto op een hele pagina.

Hieronder zie je een voorbeeld van een kleine advertentie.



**OPDRACHTEN** **Opdracht 1**

Maak een advertentie waarin je je eigen fiets probeert te verkopen. Prijs je fiets zo goed mogelijk aan, zodat mensen zin krijgen om hem te kopen. Maar probeer wel een goede prijs te krijgen. Gebruik lijntjespapier of een tekenblaadje.

**Opdracht 2**

In tijdschriften staan veel advertenties. Waarom denk je dat er advertenties in een tijdschrift staan?

Maak de volgende zin af op lijntjespapier: Ik denk dat er advertenties in tijdschriften staan, omdat \_\_\_\_\_

**Opdracht 3**

Er zijn verschillende soorten advertenties. Schrijf op welke soorten advertenties jij allemaal kunt bedenken (minstens drie). Schrijf je antwoord op lijntjespapier.

**Opdracht 4**

Blader eens door een paar kranten en tijdschriften en kijk naar de advertenties. Zijn er overeenkomsten tussen de verschillende advertenties (wat is steeds/vaak hetzelfde?). Kun je vijf overeenkomsten opschrijven?

★ Tip: Je mag natuurlijk ook het internet gebruiken om informatie op te zoeken.

Maak op lijntjespapier de volgende zin af:

Advertenties hebben/zijn meestal:

1. \_\_\_\_\_
2. \_\_\_\_\_
3. \_\_\_\_\_
4. \_\_\_\_\_
5. \_\_\_\_\_

**Opdracht 5**

Kies een tijdschrift dat nog helemaal compleet is. Pak lijntjespapier en schrijf op:

- de naam van dat tijdschrift
- het aantal pagina's met advertenties (zelf tellen).
- het totaal aantal pagina's van het tijdschrift (kijk goed naar de bladzijnummers)

Schrijf de volgende som op je eigen papier en vul op de stippelijnen de juiste getallen in. Je mag een rekenmachine gebruiken!

$\frac{\text{..... pagina's advertenties}}{\text{..... pagina's van het tijdschrift}} \times 100\% = \text{..... \%} = \text{percentage advertenties in dat tijdschrift}$

★ Tip: Je spreekt het bovenstaande als volgt uit: ..... pagina's advertenties gedeeld door ..... pagina's van het tijdschrift keer 100%.  
Denk eraan: eerst delen, dan vermenigvuldigen.

Vind je dit percentage hoog of laag? Verklaar waarom je dat vindt. Maak op papier het volgende zinnetje af: Ik vind dit percentage hoog/laag, omdat \_\_\_\_\_

### Opdracht 6

Tel nu het aantal pagina's met tekst (verhalen, artikelen) van hetzelfde tijdschrift eens. Schrijf de som over op je eigen papier en vul de juiste getallen in.

$\frac{\text{..... pagina's tekst}}{\text{..... pagina's van het tijdschrift}} \times 100\% = \text{..... \%} = \text{percentage tekst in dat tijdschrift}$

### Opdracht 7

Vergelijk het percentage tekst van het tijdschrift dat je hebt gekozen eens met het percentage advertenties. Zijn de percentages verschillend? Hoe komt dat? Maak de volgende zin op lijntjespapier af:

De percentages zijn verschillend/gelijk, omdat \_\_\_\_\_

Als jij uitgever van een tijdschrift zou zijn, welke percentages zou jij dan willen hebben tussen tekst en advertenties? Verklaar ook waarom je dat zo wilt. Maak de volgende zin op lijntjespapier af:

Ik zou \_\_\_\_\_% besteden aan advertenties en \_\_\_\_\_% besteden aan tekst, omdat \_\_\_\_\_

### Opdracht 8

In opdracht 1 heb je een advertentie gemaakt om je fiets te verkopen. Je hebt nu heel veel advertenties gezien in de tijdschriften. Zou je je eigen advertentie veranderen? Waarom? Maak op lijntjespapier de volgende zin af:

Ik verander mijn advertentie uit opdracht 1 wel/niet, omdat \_\_\_\_\_

Verander en/of vul je eigen advertentie aan met plaatjes en/of tekeningen.

**AFSLUITING** 

Kies een tijdschrift (met een andere naam), dat nog helemaal compleet is.

Schrijf de naam van dit tijdschrift op. Herhaal de sommen uit opdracht 5 en 6.

- Welke percentage advertenties en welk percentage tekst heeft dit tijdschrift?
- Zijn de percentages tekst en advertenties anders dan bij het eerste tijdschrift?
- Probeer de verschillen in percentages die je hebt gevonden tussen de twee tijdschriften te verklaren.

Schrijf je antwoorden op lijntjespapier. Bespreek je antwoorden met je leerkracht.

**KEUZEOPDRACHTEN**  **Keuzeopdracht 1**

Pak een zaterdagkrant. Bepaal het percentage advertenties en het percentage tekst zoals je dat ook bij opdracht 5 en 6 en in de afsluiting hebt gedaan. Tel de pagina's van de krant waarop artikelen en ook een paar kleine advertenties staan als tekstpagina. Als een pagina voor meer dan de helft uit advertenties bestaat, is het een advertentiepagina.

Welke verschillen ontdek jij als je deze percentages vergelijkt met de percentages tekst en advertenties in de tijdschriften? Heb je hier een verklaring voor? Schrijf je antwoorden op lijntjespapier.

